







SUR LA PLACE

À l'aide du dessin des pages 34 et 35, répondre par **vrai** ou **faux**.

- 1 Le coq est sur le théâtre. _____
- 2 Le drapeau du Québec flotte devant l'école. _____
- 3 Le petit garçon est assis sur son tricycle. _____
- 4 Le chien court après le chat. _____
- 5 Il y a quatorze personnes sur ce dessin. _____
- 6 Il y a quatre fenêtres sur la façade du café. _____
- 7 La boucherie est à côté du théâtre. _____
- 8 Il y a plus de femmes que d'hommes sur ce dessin. _____
- 9 On voit bien le vendeur de fruits et de légumes. _____
- 10 Il y a un garçon qui saute à la corde. _____
- 11 Il y a trois musiciens sur ce dessin. _____
- 12 Il y a un arbre devant la lingerie. _____



AUX AGUETS

A  **B** 

PLACE PUBLIQUE

À l'aide du dessin des pages 34 et 35, répondre par **vrai** ou **faux**.

- 1 Le théâtre est entre le café et la boucherie. _____
- 2 L'arbre devant la lingerie est plus grand que celui qui est près du banc. _____
- 3 Le chat est à droite de la poubelle. _____
- 4 Le bras droit de la petite fille est derrière le poteau. _____
- 5 Le petit garçon qui joue du yo-yo est plus éloigné du chat que celui qui joue avec son tricycle. _____
- 6 Il y a trois chaises et trois tables sur ce dessin. _____
- 7 Il y a plus d'animaux que d'enfants sur ce dessin. _____
- 8 La femme dans la rue a un pain dans son panier. _____
- 9 La personne qui joue de la flûte est à gauche du chapeau. _____
- 10 Le marché est dans la rue. _____
- 11 Les six édifices sont collés les uns aux autres. _____
- 12 Le petit garçon qui joue du yo-yo écoute les musiciens. _____



AUX AGUETS

A  **B**  **C** 

PLACE DU MARCHÉ

À l'aide du dessin des pages 34 et 35, répondre par **vrai** ou **faux**.

- 1 Le petit garçon avec des écouteurs est droitier. _____
- 2 Le joueur d'accordéon est à la gauche de la contrebassiste. _____
- 3 Les deux femmes qui tiennent un panier le tiennent avec la même main. _____
- 4 La femme qui porte un collier est à la droite de la femme qui tient un panier avec son bras. _____
- 5 Les tables avec des nappes sont entre le marché et le café. _____
- 6 La lingerie est entre deux arbres. _____
- 7 La petite fille tient sa maman avec sa main gauche. _____
- 8 Le ballon est près de la femme qui porte une jupe et un chapeau. _____
- 9 Les trois parasols sont sous les trois tables rondes. _____
- 10 Il y a 10 personnes qui écoutent les musiciens. _____



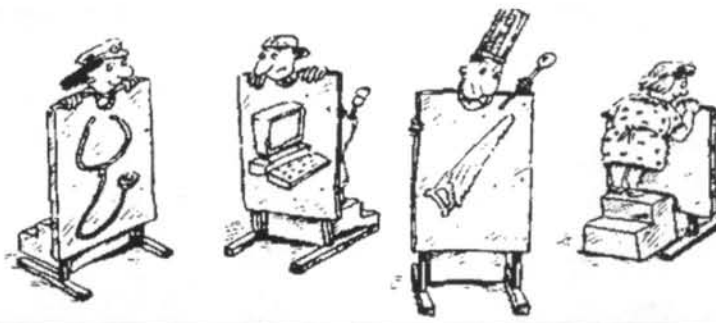
AUX AGUETS

A B C

EN PLACE

À l'aide du dessin des pages 34 et 35, répondre aux questions suivantes.

- 1 Quel personnage ne touche pas au sol? _____.
- 2 Le chien pointe-t-il le nez dans le même sens que la rue? _____.
- 3 Avec quelle main la contrebassiste fait-elle ses accords? _____.
- 4 Quel est le personnage qui est à la gauche de l'homme qui tient un journal? _____.
- 5 Combien y a-t-il de pots et de bacs à plantes dans ce dessin? _____.
- 6 Est-ce que la propriétaire du chien semble écouter la musique? _____.
- 7 Quelles sont les trois personnes qui jouent avec des cordes? _____.
- 8 Lequel des trois musiciens a-t-il le vent dans la figure? _____.
- 9 Combien y a-t-il de A dans ce dessin? _____.
- 10 Qu'ont en commun le petit garçon qui joue du yo-yo et la femme qui a un chien? _____.



JEU DES DÉFINITIONS



ON SE DÉMÊLE

Relier les mots à leur définition.

Pouce

Plante aromatique

Corneille

Gros poisson

Basilic

Meuble

Accordéon

Os

Thon

Instrument de musique

Sauterelle

Énergie sexuelle

Libido

Mammifère marin

Causeuse

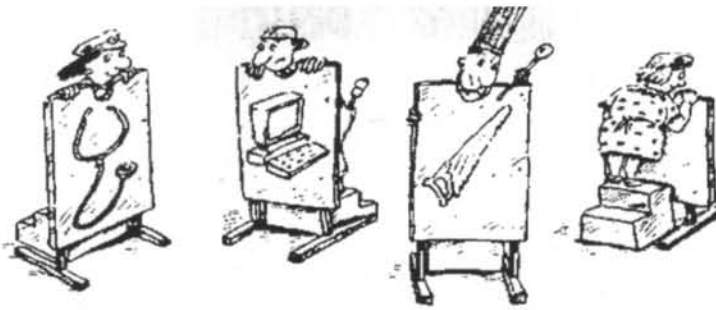
Doigt

Béluga

Insecte

Omoplate

Sorte d'oiseau



JEU DES DÉFINITIONS

A B

ON SE DÉMÊLE ENCORE

Relier les mots à leur définition.

Aluminium

Genre de crocodile

Moniteur

Petit mammifère

Crudités

Sorte de serpent

Coccinelle

Métal

Incisive

Écran d'ordinateur

Alligator

Insecte

Diamant

Touffe de plumes

Boa

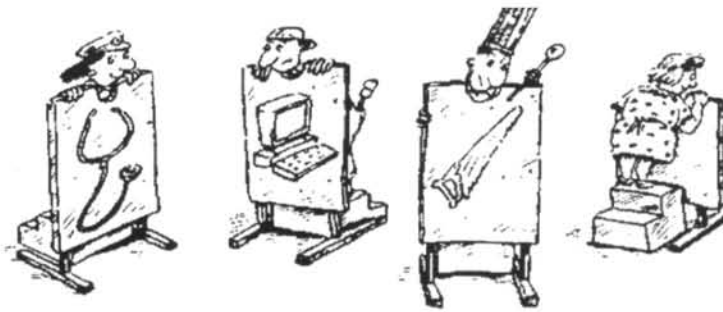
Dent de devant

Huppe

Légumes crus

Mulot

Pierre précieuse



JEU DES DÉFINITIONS

A B C

ON SE DÉMÊLE TOUJOURS

Relier les mots à leur définition.

Libellule

Mal de tête

Clarinette

Partie arrière de la jambe

Mollet

Petit oiseau

Rotule

Assaisonnement

Migraine

Insecte aux grandes ailes

Taupe

Grosse dent

Criquet

Instrument de musique

Colibri

Insecte sauteur

Molaire

Os du genou

Paprika

Animal qui vit dans la terre



1230

NOMBRE-CLÉ

A  B 

QUAND ÇA COMPTE

Trouver le nombre qui convient pour compléter l'énoncé.

- 1 Il y a _____ heures dans une journée.
- 2 Les _____ apôtres.
- 3 Jésus est mort à _____ ans.
- 4 Il y a _____ mètres dans un kilomètre.
- 5 Les _____ dalmatiens.
- 6 Les _____ petits cochons.
- 7 Il y a _____ pointes sur une étoile.
- 8 Il y a _____ points noirs sur un dé.
- 9 Aux quilles, une partie parfaite, c'est _____ points.
- 10 Il y a _____ pouces dans un pied.
- 11 Dans une partie de hockey, il y a _____ joueurs sur la glace.
- 12 Avant d'accoucher, une femme porte son bébé pendant _____ mois.



PROBLÈMES BÊTES ET MÉCHANTS

A 

MAL À LA TÊTE

Trouver les solutions aux problèmes suivants.

- 1 Madeleine fête ses 20 ans. Combien a-t-elle eu de dates de naissance jusqu'à ce jour? _____

- 2 Un avion s'écrase aux États-Unis. Peut-on enterrer les survivants au Canada? _____

- 3 Robert a fait quatre voyages dans sa vie. Il est mort au cours de l'un de ces voyages. Lequel? _____

- 4 Est-ce qu'un homme peut épouser la soeur de sa veuve?

- 5 Michel n'a qu'une seule allumette pour allumer trois choses : une lampe à l'huile, une chandelle et un poêle à bois. Que va-t-il allumer en premier? _____

6 Il y a cinq oiseaux sur un fil de téléphone. Louise en abat un d'un coup de fusil. Combien en reste-t-il?

7 Qu'est-ce qui est plus lourd : un kilo de plomb ou un kilo de plumes?

8 Marie achète six oeufs. En rentrant chez elle, elle s'aperçoit qu'ils sont tous brisés sauf deux. Combien en reste-t-il?



PROBLÈMES BÊTES ET MÉCHANTS

A  B 

ENCORE MAL À LA TÊTE

Trouver les solutions aux problèmes suivants.

- 1 Si une auto prend deux heures pour aller à Québec, combien de temps prendront deux autos pour faire le même trajet?

- 2 Après avoir fait trois longueurs de piscine, Jean, qui ne porte pas de casque de bain, n'a pas un seul cheveu mouillé. Pourquoi?

- 3 Madame Bertrand a deux filles. Chacune de ses filles a deux frères. Combien madame Bertrand a-t-elle d'enfants?

- 4 Combien y a-t-il de mois avec 28 jours dans une année?

5 Deux girafes, une grande et une petite, se promènent dans la savane. La petite est la fille de la grande, mais la grande n'est pas la mère de la petite. Comment est-ce possible?

6 Avant la découverte du mont Everest, quelle était la plus haute montagne du monde?

7 Pierre ramasse les feuilles autour de la maison. Il y a deux tas de feuilles dans la cour et trois devant la maison. Quand il mettra tous les tas ensemble, combien y en aura-t-il?

8 Il y a une vieille invention qui permet aux gens de voir à travers les murs. Comment s'appelle-t-elle?



PROBLÈMES BÊTES ET MÉCHANTS

A  B  C 

TOUJOURS MAL À LA TÊTE

Trouver les solutions aux problèmes suivants.

- 1 Gaston et sa fille ont un accident de voiture. Gaston meurt et sa fille est blessée. À l'hôpital, le médecin dit : "Je préfère que quelqu'un d'autre s'en occupe car c'est ma fille." Comment cela est-il possible?

- 2 Un aventurier cherche un trésor. Pour s'en emparer, il a le choix de passer par trois corridors. Dans le premier, il y a un mur de flammes, dans le deuxième, il y a des tueurs armés jusqu'aux dents et dans le troisième, il y a des lions qui n'ont pas mangé depuis au moins deux ans. Quel corridor devrait-il choisir?

- 3 En quelle année Noël et le jour de l'An sont-ils tombés la même année?

4 Quel est le lien de parenté le plus proche de vous que peut avoir la belle-soeur de la soeur de votre père?

5 Un train électrique à grande vitesse se déplace vers le sud à 200 kilomètres à l'heure. Le vent souffle vers le nord à 50 kilomètres à l'heure. Dans quelle direction soufflera la fumée du train?

6 Combien d'animaux de chaque espèce Moïse a-t-il pris dans son arche?

7 À Chicago, aux États-Unis, on ne peut pas prendre la photo d'une femme avec une perruque. Pourquoi?

8 Un policier est à l'arrêt devant un feu rouge. Une femme distraite traverse la rue devant le policier. Ce dernier ne fait rien pour l'arrêter. Pourquoi?
